



78th
عاشا
من التميز والعطاء

ورقة عمل واجب بيتي
المبحث : الرياضيات
الصف : السادس

الجبهة / جبل عمان
مدارس الكلية العلمية الاسلامية

الشعبة : ()

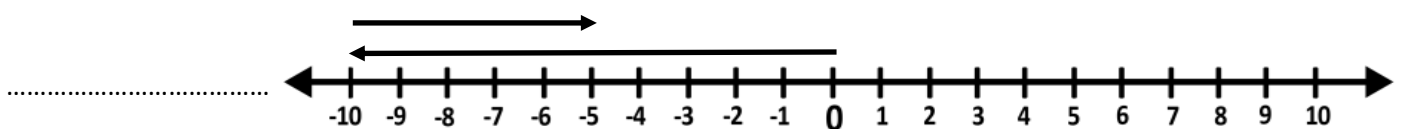
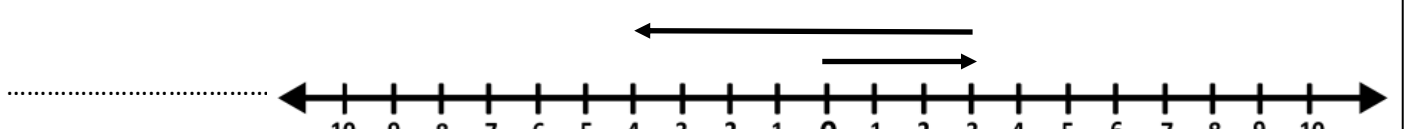

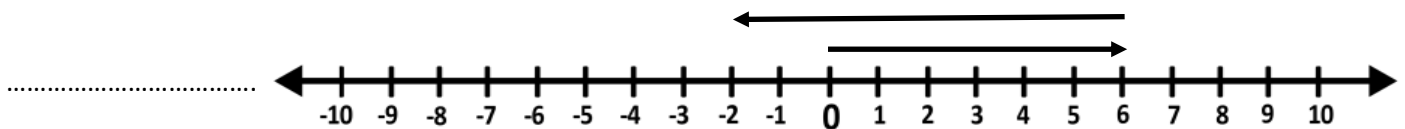
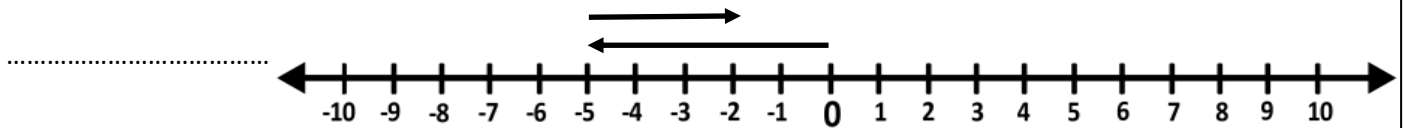
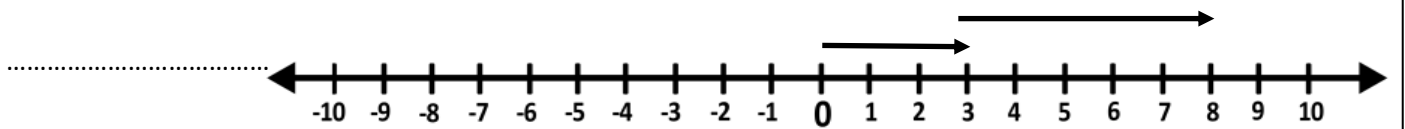
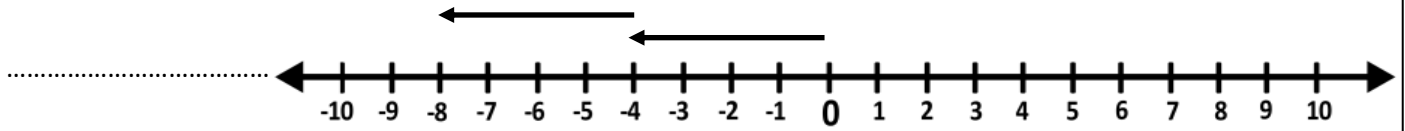
الوحدة : الأعداد الصحيحة و العمليات عليها .

. الدرس : جمع الأعداد الصحيحة

اليوم / التاريخ : / / 2025

اسم الطالب :

أكتب عبارة الجمع الصحيحة الممثلة على خط الأعداد وأجد الناتج :-



أجد القيمة المطلقة لكل مما يأتي :-

$$| + 6 | = \dots\dots\dots$$

$$| - 25 | = \dots\dots\dots$$

$$| + 130 | = \dots\dots\dots$$

$$| - 42 | = \dots\dots\dots$$

ضع الإشارة المناسبة > أو < أو = في المربع لتصحيح العبارة صحيحة :-

$$(1) \quad -28 \quad \square \quad 28$$

$$(2) \quad -30 \quad \square \quad - | -30 |$$

$$(3) \quad -95 \quad \square \quad -94$$

$$(4) \quad 0 \quad \square \quad -20$$

يسكن علي في الطابق الرابع فوق الأرض ويسكن عمر في الطابق الثاني تحت الأرض ، ما المسافة العمودية بينهما بالطوابق ؟

.....

.....

إذا كان آدم في الطابق الأول تحت الأرض وصعد خمس طوابق للأعلى ، إلى أي طابق يصل لآدم ؟

.....

.....

يخلق نسر على ارتفاع 30 متر فوق سطح البحر بينما تسبح سمكة على عمق 25 متر تحت سطح البحر ، ما المسافة الرأسية بين النسر والسمكة ؟

.....

.....