
	<p style="text-align: center;">مهمة الطرز الجينية والشكلية العلوم الصف: الثامن</p>		 مدارس الكلية العلمية الإسلامية جبل عمان/ الجبيلة
الشعبة : ()	الوحدة : الوراثة والتكاثر	اسم الطالب :	
	الدرس : الوراثة	اليوم/ التاريخ :	202 / /

النتاج : ان يكتب الطالب الطرز الجينية والطرز الشكلية

نشاط 1 اذا علمت ان أليل لون الازهار الارجواني R وأليل لون الازهار الأبيض r اكمل الجدول التالي



الطرز الجيني	الطرز الشكلي
	أزهار ارجوانية نقية
Rr	
	ازهار بيضاء

اكتب الطرز الشكلية للطرز الجينية التالية اذا علمت ان أليل طول الساق في نبات البازيللاء هو A والليل قصير الساق هو a :

AA الطراز الشكلي هو

Aa الطراز الشكلي هو

aa الطراز الشكلي هو

	<p style="text-align: center;">مهمة الطرز الجينية والشكلية العلوم الصف: الثامن</p>		 مدارس الكلية العلمية الإسلامية جبل عمان/ الجبيلة
الشعبة : ()	الوحدة : الوراثة والتكاثر	اسم الطالب :	
	الدرس : الوراثة	اليوم/ التاريخ :	202 / /

النتاج : ان يكتب الطالب الطرز الجينية والطرز الشكلية

نشاط 1 اذا علمت ان أليل لون الازهار الارجواني R وأليل لون الازهار الأبيض r اكمل الجدول التالي

الطرز الجيني	الطرز الشكلي
RR	أزهار ارجوانية نقية
Rr	أزهار ارجوانية غير نقية
rr	ازهار بيضاء

اكتب الطرز الشكلية للطرز الجينية التالية اذا علمت ان أليل طول الساق في نبات البازيللاء هو A والليل قصير الساق هو a :

AA الطراز الشكلي هو : **طويل الساق نقي (متماثل أليلات)**

Aa الطراز الشكلي هو : **طويل الساق غير نقي (غير متماثل أليلات).**

aa الطراز الشكلي هو **قصير الساق نقي**